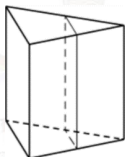


4 Найдите значение выражения

$$\frac{1}{45} \cdot 16\overline{10}$$

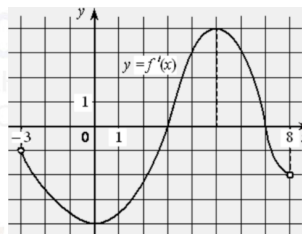
Ответ: _____.

5 Через среднюю линию основания треугольной призмы проведена плоскость, параллельная боковому ребру. Площадь боковой поверхности отсечённой треугольной призмы равна 37. Найдите площадь боковой поверхности исходной призмы.



Ответ: _____.

6 На рисунке изображён график функции $y = f'(x)$ – производной функции $f(x)$, определённой на интервале $(-3; 8)$. Найдите точку максимума функции $f(x)$.



Ответ: _____.

7 При сближении источника и приёмника звуковых сигналов, движущихся в некоторой среде по прямой навстречу друг другу со скоростями u и v (в м/с) соответственно, частота звукового сигнала f (в Гц), регистрируемого приёмником, вычисляется по формуле $f = f_0 \cdot \frac{c+u}{c-v}$, где $f_0 = 170$ Гц – частота исходного сигнала, c – скорость распространения сигнала в среде (в м/с), а $u = 2$ м/с и $v = 17$ м/с – скорости приёмника и источника относительно среды. При какой скорости c распространения сигнала в среде частота сигнала в приёмнике f будет равна 180 Гц? Ответ дайте в м/с.

Ответ: _____.

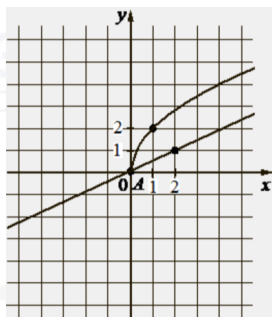
8 Имеется два сплава. Первый содержит 10% никеля, второй – 35% никеля. Из этих двух сплавов получили третий сплав массой 150 кг, содержащий 25% никеля. На сколько килограммов масса первого сплава была меньше массы второго?

Ответ: _____.

vk.com/ege100ballov



9 На рисунке изображены графики функций видов $f(x) = a\sqrt{x}$ и $g(x) = kx$, пересекающиеся в точках A и B . Найдите абсциссу точки B .



Ответ: _____.

10 Помещение освещается тремя лампами. Вероятность перегорания каждой лампы в течение года равна 0,8. Лампы перегорают независимо друг от друга. Найдите вероятность того, что в течение года хотя бы одна лампа **не перегорит**.

Ответ: _____.

11 Найдите точку максимума функции

$$y = 1 + 27x - 2x\sqrt{x}.$$

Ответ: _____.

Не забудьте перенести все ответы в бланк ответов № 1 в соответствии с инструкцией по выполнению работы. Проверьте, чтобы каждый ответ был записан в строке с номером соответствующего задания.

Часть 2

Для записи решений и ответов на задания 12–18 используйте **БЛАНК ОТВЕТОВ № 2**. Запишите сначала номер выполняемого задания (12, 13 и т. д.), а затем полное обоснованное решение и ответ. Ответы записывайте чётко и разборчиво.

12 а) Решите уравнение

$$2 \cdot 16^{\cos x} - 9 \cdot 4^{\cos x} + 4 = 0.$$

б) Найдите все корни этого уравнения, принадлежащие отрезку

$$\left[-3\pi; -\frac{3\pi}{2}\right].$$

13 Дана треугольная пирамида $SABC$. Высота SO опускается на середину высоты CH треугольника ABC .

а) Докажите, что $SA^2 - SB^2 = AC^2 - BC^2$.

б) Найдите объём пирамиды $SABC$, если $AB = 25$, $BC = 10$, $AC = 5\sqrt{3}$, $SC = 5\sqrt{10}$.

14 Решите неравенство

$$\frac{\log_4(16x^4) + 11}{\log_4^2 x - 9} \geq -1.$$

15 Условие 15-го декабря планируется взять кредит в банке на сумму 1100 тысяч рублей на 31 месяц. Условия его возврата таковы:

- 1-го числа каждого месяца долг возрастает на 2% по сравнению с концом предыдущего месяца;
- со 2-го по 14-е число каждого месяца необходимо выплатить часть долга;
- 15-го числа каждого месяца с 1-го по 30-й долг должен быть на одну и ту же сумму меньше долга на 15-е число предыдущего месяца;
- к 15-му числу 31-го месяца кредит должен быть полностью погашен.

Какой долг будет 15-го числа 30-го месяца, если общая сумма выплат после полного погашения кредита составит 1503 тысячи рублей?



16 Дана равнобедренная трапеция $ABCD$. На боковой стороне AB и большем основании AD взяты соответственно точки F и E так, что FE параллельна CD и $CF = ED$.

а) Докажите, что $\angle AFE = \angle BCF$.

б) Найдите площадь трапеции $ABCD$, если $ED = 3BF$, $FE = 5$ и площадь трапеции $CDEF$ равна $14\sqrt{35}$.

17 Найдите все значения параметра a , при каждом из которых система уравнений

$$\begin{cases} xy^2 - 3xy - 3y + 9 = 0, \\ y = ax \end{cases}$$

имеет ровно два различных решения.

18 Каждое из 4 последовательных натуральных чисел разделили на любую ненулевую цифру числа. S — это сумма получившихся 4 чисел.

а) Может ли $S = 421$?

б) Может ли $S = 9,2$?

в) Какое наибольшее может быть S , если известно, что 4 исходных числа не меньше 400 и не больше 999?

Проверьте, чтобы каждый ответ был записан рядом с номером соответствующего задания.

ЕГЭ 100 БАЛЛОВ
ВСЕРОССИЙСКИЙ ШКОЛЬНЫЙ ПРОЕКТ
VK.COM/EGE100BALLOV



vk.com/ege100ballov

